

Приглашаем принять участие в ежегодном блицтурнире по окружающему миру

«Росток».

Наш мир состоит из многих вещей, которые как ниточки паутинки, связываются в единое целое — знания.

Сегодня мы предлагаем вам проверить ваши знания об окружающем нас мире, которые вы приобрели на уроках в школе или в ходе самостоятельной подготовки.

Хитрый паучок ждёт вас в гости, чтобы задать вам свои



вопросы и задания. Приглашаем вас присоединиться к вашим сверстникам и закрепить всё интересное, что вы уже узнали!


Знакомьтесь — это

любопытный паучок. Он знает, что паутинки — ниточки связываются в единое целое, как и наши знания. Поэтому очень важно — ничего не упустить. Вы уже знаете много, и паучок решил проверить это.

№1. Прочитайте названия в вариантах ответов. Кто лишний среди перечисленных?

- 1) Волчонок.
- 2) Поросёнок.
- 3) Белка.
- 4) Ежонок.

№2. Посмотрите на картинку. Кто зимой ночует под снегом?



№3. Паучок знает много о деревьях, ведь он плёл на них свои паутинки! Паучок интересуется — что не является деревом?

- 1) Берёза повислая.
- 2) Шиповник обыкновенный.
- 3) Тополь серебристый.
- 4) Дуб обыкновенный.

№4. Паучок интересуется, какое растение изображено на картинке?

- 1) Томат.
- 2) Картофель.
- 3) Огурец.
- 4) Перец.



№5. Кто не является насекомым?


- 1) Стрекоза.
- 2) Муравей.
- 3) Муха.
- 4) Паук.
- 5) Бабочка.

№6. Какой гриб среди перечисленных ниже, не изображён на картинке?



- 1) Белый.
- 2) Мухомор.
- 3) Подосиновик.
- 4) Лисички.
- 5) Опята.


№9. Выберите то, что относится к природе.



№10. Как называется обильное опадание листьев осенью?

- 1) Гниение.
- 2) Исчезновение.
- 3) Листопад.
- 4) Осыпание.

№12. Что является главным корнем растения, представленного на картинке? Обведите цифру варианта.



№13. Найдите на поле букв названия рыб (искать можно только в направлениях слева направо, справа налево, снизу вверх). В ответе запишите числом количество найденных рыб.

А	Н	А	К	Л	Е
Б	А	К	У	Щ	Б
А	Ё	Ж	В	О	Ш
К	М	О	С	Л	Р
Ь	С	Ы	Р	К	Ё
К	А	Р	А	С	Ь

Ответ: _____


№14. Посмотрите на картинку.

Выберите варианты, в которых верно расположены последовательности наступления времён года.

ОСЕНЬ	ВЕСНА	ЗИМА	ЛЕТО
1	2	3	4

- 1) 1-4-2.
- 2) 2-4-1.
- 3) 3-2-4.
- 4) 3-2-1.

№15. Какой термометр показывает самую холодную температуру окружающей среды?



Зарегистрировать ребят для участия в блицтурнире «Математические ступеньки» можно на сайте:

<https://www.farosta.ru/kon/blitsturnir-%C2%ABrostok%C2%BB-9-20.html>

Регистрация до: 19.03.2020

Время проведения: 10.03.2020 - 19.03.2020

Загрузить работы участников не позднее: 19.03.2020

Награждение.

Победители определяются в каждой возрастной группе отдельно.

Победители получают Дипломы победителя. Остальные участники — Сертификаты участника.

Каждый педагог получает Благодарственное письмо.

Основные даты - IX Международный блицтурнир по окружающему миру «Росток»			
Время проведения	16.03.2020 - 31.03.2020	Подведение итогов	05.04.2020
Срок регистрации	до 31.03.2020	Отправка нагр. мат.	14.04.2020
Возрастная группа	1, 2, 3, 4	Область знаний	Природоведение

До встречи на блицтурнире!

